

2019年山西运城夏县事业单位考试《公基》和《职测》精选试题

一、言语理解与表达。本部分包括表达与理解两方面的内容。请根据题目要求，在四个选项中选出恰当的答案。

1、推动体育事业可持续发展、加快推进体育强国建设，需要精准把握破与立、守正与创新的_____关系。对于阻碍体育事业发展的体制机制问题，就是要想方设法进行调整、解决；对于发展思路老化、行为方式_____的运动项目，就是要大刀阔斧进行改革、创新；对于固有的利益藩篱、陈旧的发展理念，就是要坚决予以拆除、纠正。

依次填入画横线部分最恰当的一项是（ ）。

- A、相对 固执
- B、辩证 僵化
- C、相反 奇怪
- D、逻辑 死板

2、城市，刻印着文明的进步，承载着无数的梦想与_____。城市发展的归宿，是让更多人诗意地栖居。如今，见惯了繁华与喧闹，越来越多的城市居民向往自然的_____。绿色，正在城市中不断铺展开来。

依次填入画横线部分最恰当的一项是（ ）。

- A、希冀 回归
- B、企图 眷念
- C、指望 顾盼
- D、盼望 情怀

3、只要把一条新闻塑造得有模有样，_____，人们就很容易被_____。通常，某一观点的“认知流利度”决定了它能否被人接受。很简单，只需用易于阅读的字体将故事打印出来，就能轻松骗过不少人。

依次填入画横线部分最恰当的一项是（ ）。

- A、惟妙惟肖 麻醉
- B、煞有其事 迷惑
- C、笔大如椽 诱惑
- D、不蔓不枝 误导

4、书店突然变了样。书架上那些花花绿绿的图书消失了，_____的是各类教科书与教辅书。它们在书店门口堆积如山、严阵以待，气势逼人地_____在我面前，而我能做的，就是乖乖地交钱，将它们领回家。_____，逛书店的乐趣已经消失得无影无踪。

依次填入画横线部分最恰当的一项是（ ）。

- A、偷梁换柱 伫立 不过
- B、取而代之 矗立 反正
- C、无可替代 屹立 总之
- D、越俎代庖 耸立 可是

5、顺应和平、发展、合作、共赢的时代潮流，中国提出_____人类命运共同体理念。这一理念_____和_____“天人合一”“以和为贵”“天下大同”等中华优秀传统文化精髓，既具有鲜明中国特色，又蕴含全人类的共同价值追求，具有深厚的文化品格。

依次填入画横线部分最恰当的一项是（ ）。

- A、构建 传承 弘扬
- B、建设 发扬 继承
- C、建设 继承 发扬
- D、构造 承担 弘扬

6、面对“第二故乡”一片好山、好水，我们应该不断提升自己，努力做一个配得上好山好水的好人。这样的人，_____是来享受好山好水的，_____也把好的举止与修养奉献于此，让好人与好山好水_____。

依次填入画横线部分最恰当的一项是（ ）。

- A、虽然 但 相得益彰
- B、与其 不如 交相辉映
- C、只有 才 敬而远之
- D、首先 然后 形影相随

7、人们常说，三人成虎，_____。尤其面临极端天气，防御准备责重山岳，应急抢险十万火急，在这种紧急、重大关头，网络谣言还广泛传播，其破坏力绝非“添乱”所能概括。

填入画横线部分最恰当的一句是（ ）。

- A、网络谣言必须好好治理
- B、谣言的危害性不言而喻
- C、网络谣言不会不攻自破
- D、决不能成为谣言的推手

8、早早定了复习计划，但不到考前最后一晚就复习不下去。布置了作业，虽然自我祷告了几百遍“早点动手”，但多数是踩着最后的截止日期匆忙提交……等一会儿、拖一下，之后随着时间的累积，不断发酵的内疚、自责、挫败、愤懑等情绪将自己包围继而吞没其中。估计不少人会对这种描述很熟悉。据调查 66.1%的受访青年坦言自己是“口头积极者”，78.1%的受访青年表示周围“口头积极者”多，其中 21.7%直言非常多。

“口头积极者”的言外之意是_____。

填入画横线部分最恰当的一句是（ ）。

- A、行动十分受限
- B、口头积极决定行动积极
- C、口头上并不积极
- D、行动上没那么积极

9、①2016年底，我在这里的星巴克咖啡店结束了一个关于作家村上春树的采访后，在建筑内部用粗壮水泥墙隔开的像迷宫般的空间内转了转

②沿着曾经驱赶牛群走向屠宰车间的低矮步道，满是提着相机，戴着冷帽，穿着棒球衫、牛仔服的年轻人，像缓慢稠密的水流，涌动在这栋水泥迷宫的各个角落

③走在其中，能感觉到挤挤挨挨的人群和丰富物品带来的温暖和舒适感，有些陌生的异质感和没有来由的不知所措——这多像村上春树笔下都市人的感受

④这是都市中才存在的空间，它从城市的陈旧母体中脱胎出来，产生着陌生感和新鲜感

⑤在上海市区的苏州河边，有一个叫老场坊的地方。上世纪30年代，这里是一个由英国人设计的屠宰场，但现在改建成了众多咖啡厅、时尚饰品、艺术店铺的集合地，成为上海市内一个著名艺术区

将上述句子组成语意连贯的语段，排序最恰当的一项是（ ）。

- A、①⑤②③④
- B、③⑤①②④
- C、⑤②①④③
- D、⑤①②④③

10、①活性炭的种类繁多，按生产原料可分为木质活性炭、煤质活性炭等

②如活性炭纤维、活性炭布、蜂窝状活性炭等

③虽然看着不起眼，但活性炭的作用可不容小觑

④它是一种多孔性物质，具有很大的比表面积和较强的吸附性和催化性能

⑤提到活性炭，大部分人脑海里都会浮现它黑黑的模样

⑥按外观形状可分为粉状活性炭、颗粒活性炭和其他形状活性炭

将上述句子组成语意连贯的语段，排序最恰当的一项是（ ）。

- A、①②⑥⑤③④
- B、①②⑥⑤④③
- C、⑤①②⑥④③
- D、⑤①⑥②③④

11、随着社会经济和互联网的不断发展，各色漫画平台不断崛起，国漫有了更新鲜的生长土壤。并且在 IP 概念的不断推动下，国漫 IP 化、多行业联动发展的现象已相当普遍。国漫 IP 不断与多种业态结合，催生出主题餐厅、主题展、主题周边等多种商业模式。虽然中国动漫产业目前正蓬勃发展，但要想持续获得消费市场和资本市场的青睐，国漫 IP 产业化的道路还存在很大的瓶颈。

接下来最有可能讲的是（ ）。

- A、如何创新国漫 IP 产业形式
- B、国漫 IP 产业化的必然趋势
- C、国漫 IP 产业化遇到的问题
- D、如何推动国漫 IP 产业化进程

12、现在市场上出现了一些代为预约挂号的 APP、网站，作为预约挂号的第三方平台，如果仅仅以提供咨询服务，不直接参与有偿挂号交易为由，试图摆脱为网络黄牛提供生存空间和便利、甚至是共同谋取非法之利的责任，这既是在打法律擦边球，也是在为平台业务的合法性和合理性埋雷。

给这段文字加标题，最恰当的一项是（ ）。

- A、第三方平台，解决网络黄牛的唯一手段
- B、网络黄牛的存在，谁应付主要责任
- C、打击网络黄牛，刻不容缓
- D、打击网络黄牛，平台不能做“甩手掌柜”

13、当前文艺创作尽管还存在有“高原”缺“高峰”现象，但媒介形态和媒介产品数量日益庞大、无处不在，文艺作品形态和数量已经前所未有地丰富：近两千万部网络小说、难以计数的各种短视频、每年数百部电影、数百部剧集、网络游戏层出不穷。新创作品都已经丰富到难以选择的程度，更何况还有无数存量的文艺作品。可以说，文艺创作已经由“卖方市场”转变为“买方市场”，要在海量信息中实现一部作品的广泛覆盖乃至文化引领，难度前所未有的。对这段文字，下列理解正确的是（ ）。

- A、如今的文艺创作不再存在抄袭模仿、千篇一律等现象
- B、不管是形态方面，还是数量方面，文艺作品都是越来越丰富
- C、要实现一部作品的广泛覆盖，难度是非常大的
- D、在众多新作品里，用户越来越难以选择

14、走路是一种很好的锻炼方式，能够起到强身健体、增强身体抵抗力的锻炼效果。不仅能强健心肺功能，改善血液循环，增加全身肌肉的力量，还可以减轻精神压力，调整新陈代谢，对防治心脑血管病、血脂异常、糖尿病及肥胖等都能有很大帮助。虽然走路是一项老少皆宜的运动，但专家表示运动是一把“双刃剑”，既可健身，也可伤身。

这段文字接下来有可能谈论（ ）。

- A、健步走的健身原理
- B、应该如何正确地走路
- C、过度走路可能存在的风险
- D、走路为什么被认为是“最好的运动”

二、数量关系。在这部分试题中，每道题呈现一段表述数字关系的文字，要求你迅速、准确地计算出答案。

15、甲工程队一共 10 个人，修建 1000 米的城墙需要 10 天，后来因为工程队减员，只剩下 8 个人，若保持工作效率不变，则再修建 2000 米的城墙还需要（ ）天。

- A、20
- B、25
- C、30
- D、40

16、四个家庭一起去儿童乐园玩，他们一起到同一个售票窗口买票，当他们买票的时候必须每个家庭的人都要站在一起（家庭成员内部排序无要求），则这四个家庭可以有（ ）种排队顺序。

- A、24
- B、96
- C、384
- D、40320

17、某校四年级有 271 名学生准备乘大巴前往森林公园进行春游，已知大客车有 37 个座位，小客车有 20 个座位。为保证每位学生均有座位，且车上没有空余座位，则需要大客车（ ）辆。

- A、2
- B、3
- C、4
- D、5

18、一个长方体的长、宽、高是三个连续的偶数，其中高是最小的，假如这个长方体的体积为 1680 立方厘米，那么这个长方体的高是（ ）厘米。

- A、10
- B、12
- C、14
- D、16

19、某公司有一批货物需要从 A 地运往 B 地，装满货物时，火车速度为 60 千米/小时，空车时速度为满载时的 1.5 倍，已知货车从 A 地出发再返回 A 地用时 3 个小时（不考虑在 B 地的停留时间），则 AB 两地距离是

() 千米。

- A、108
- B、110
- C、112
- D、114

20、为了促销，一批商品以原价的 8 折出售，销售增加一倍，那么收入增加了 ()。

- A、80%
- B、70%
- C、60%
- D、50%

21、毛师傅是木匠，他在做一件家具的时候需要把 3 根相同的木料锯成每根 3 段，每根开一处需要 5 分钟，那么全部锯完需耗时 () 分钟。

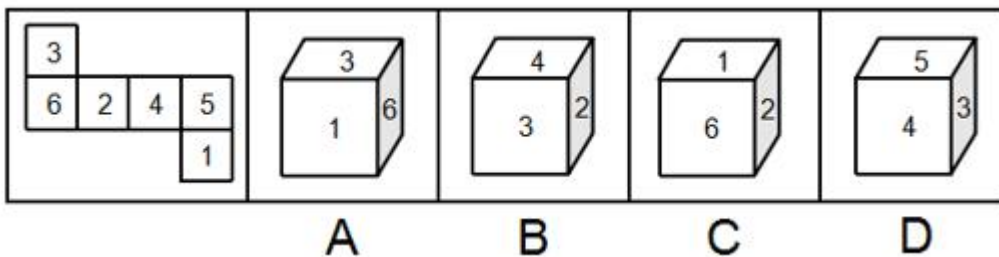
- A、20
- B、30
- C、34
- D、44

22、下列数字能同时被 3 和 5 整除的有 ()。

- A、135
- B、115
- C、315
- D、215

三、**判断推理**。本部分包括图形推理、定义判断、类比推理和逻辑判断四种类型的试题，在四个选项中选择恰当的答案。

23、左边给定的是纸盒的外表面，下列能由它折叠而成的是 ()。（不考虑数字方向）

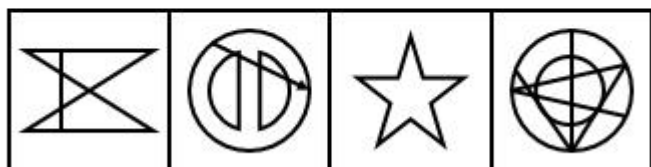
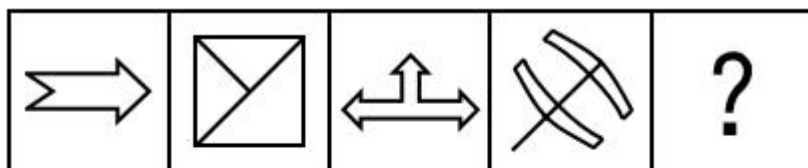


- A、A
- B、B

C、C

D、D

24、根据所给图形的既有规律，选出一个最合理的答案。（ ）



A

B

C

D

A、A

B、B

C、C

D、D

25、根据所给图形的既有规律，选出一个最合理的答案。（ ）



A

B

C

D

A、A

B、B

C、C

D、D

26、生物灾害是指在处理微生物病原体或者包含微生物病原体的材料以及被其感染的个体时造成的对工作人员的危害或者伤害，根据上述定义，下列属于生物灾害的是（ ）。

A、由于抗生素的滥用，普通细菌产生了耐药性而变得更难治疗，仅欧洲每年就有两万多人被感染，参与救治的多名医生被击倒

- B、由于近年来环境遭到严重的破坏，老鼠泛滥成灾，导致某地鼠疫严重
- C、某装载大量石油的轮船沉没，石油泄漏到海中，造成附近一带水生物死亡
- D、某地区突然出现大量蝗虫，农作物遭到严重破坏

27、先天性行为是由动物体内遗传物质所决定的，是本物种的一种遗传特性，不需要后天学习，生来就有的一种行为能力，这种能力在适当条件下，由神经调节激素调节就能表现出来。根据上述定义，下列不属于先天性行为的是（ ）。

- A、鸟类向南方迁徙
- B、大猩猩用树枝捕食蚂蚁
- C、小袋鼠爬到母袋鼠腹部的育儿袋中吃奶
- D、变色龙的体色改变

28、恩格尔系数，是指食品支出总额占个人消费支出总额的比重，一般随居民家庭收入和生活水平的提高而下降。国际上常常用恩格尔系数来衡量一个国家和地区人民生活水平的状况。根据上述定义，下列说法正确的是（ ）。

- A、小明家上个月总开支 800 元，其中 400 元用于食物支出；这个月总开支 1100 元，其中 550 元用于食物开支，表明小明家的生活水平提高了
- B、小华每月总开支 1000 元，其中食物开支 420 元，则恩格尔系数为 42%
- C、丙地区的人一般把 40%的总开支花在购买食物上，丁地区的人则花 30%的总开支花在食物上，说明丙地区的人生活质量高于丁地区的人
- D、将全部开支都用于购买食物的人生活幸福美满

29、下图所代表的物体间存在一定的逻辑关系，与“图一：图二”逻辑关系相近的是（ ）。



图一



图二

- A、计算机：算盘
- B、猴子：狒狒
- C、鼠标：电脑
- D、火热：火焰

30、与“空调：压缩机”这组词逻辑关系最为相近的一项是（ ）。

- A、奶油：蛋糕

- B、汽油：柴油
- C、飞机：发动机
- D、烧烤：烤架

31、“眼睛：鼻子：嘴巴”这组词逻辑关系最为相近的一项是（ ）。

- A、铁路：公路：交通
- B、蔬菜：茄子：土豆
- C、裤子：上衣：裙子
- D、飞机：高铁：轨道

32、与“寻寻觅觅，冷冷清清，凄凄惨惨戚戚：李清照：宋”这组词逻辑关系最为相近的一项是（ ）。

- A、众里寻他千百度，蓦然回首，那人却在灯火阑珊处：辛弃疾：豪放派
- B、在天愿作比翼鸟，在地愿为连理枝：白居易：唐
- C、床前明月光，疑是地上霜：杜甫：唐
- D、辛苦最怜天上月，一昔如环，昔昔都成玦：纳兰性德：明

33、（ ）对于“机器”相当于“小鸟”对于（ ）

- A、运转 飞翔
- B、飞机 动物
- C、柜子 大象
- D、钢铁 羽毛

34、小王说：“今天下班我要去健身或游泳。”若小王说的不是事实，则下列（ ）成立。

- A、小王健身、游泳都没去
- B、小王只去健身
- C、小王健身、游泳都去
- D、小王要么去健身要么去游泳

35、甲、乙、丙三位检察辅助人员来自湖南、江西和湖北。已知来自江西的检察辅助人员的身高最高，甲的身高排第二，来自湖北的检察辅助人员的身高比甲低。根据以上条件，下列判断中一定正确的是（ ）。

- A、湖北人的身高排名第二
- B、乙来自江西
- C、丙的身高最矮
- D、甲来自湖南

36、某大学的研究者发现，黑暗的房间中平均有 22%的细菌存活且能够繁殖。而有阳光照射的房间只有 3.8%的细菌存活，因此相关学者建议人们要尽量拉开窗帘让阳光照进房间。下列选项如果为真，最能削弱上述观点

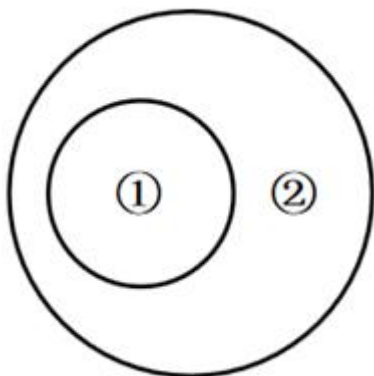
的是（ ）。

- A、阳光中的紫外线具有杀菌功能
- B、实验发现阳光杀死的大部分细菌都有益于人体健康
- C、有少部分人会对阳光产生过敏反应
- D、黑暗房间细菌存活率高的原因之一是潮湿

37、胜任力是指员工在工作情境中，为完成工作所具备并体现出来的知识、技能、能力、态度、动机等关键特征。根据上述定义，下列表现出胜任力的有（ ）。

- A、厨师小王能在短时间内烹饪出各具特色的粤菜和川菜
- B、小李和同事共同完成了一项调研工作，但由于同事的失误导致需要重新调研
- C、还在试用期的小张，不到一天时间，就整理出合格供应商的名单和真实报价
- D、小周与领导在某项工作上意见不合，受到了领导的质疑与反驳

38、如果用一个圆来表示概念所指称的对象的集合，则下列选项中两个概念之间的关系符合下图的有（ ）。



- A、①牡丹；②百合
- B、①海豚；②哺乳动物
- C、①黄豆；②黄豆
- D、①宋体；②字体

39、与“湖北省：鄂：武汉”这组逻辑关系相近的有（ ）。

- A、山东省：鲁：青岛
- B、安徽省：皖：合肥
- C、吉林省：吉：长春
- D、山西省：冀：太原

40、研究表明，晚上睡眠不足5个小时，大脑就不能得到充分休息，而大脑不能得到充分休息，人在第二天就会身心疲惫，小明身心不疲惫，由此可以得出（ ）。

- A、小明的大脑没有得到充分休息
- B、小明的大脑得到了充分休息
- C、小明做完没有睡足 5 个小时
- D、小明昨晚睡足了 5 个小时

41、所有大象都需要喝水，人需要喝水，所以人是大象。下列推理，与题干所犯的逻辑错误一样的有（ ）。

- A、所有空调都可以制冷，冰箱可以制冷，所以冰箱是空调
- B、所有饮料都含有色素，紫菜含有色素，所以紫菜是饮料
- C、所有植物都是绿色的，茄子是紫色的，所以茄子不是植物
- D、所有学生都是积极向上的，赵平是学生，所以赵平也是积极向上的

42、A、B、C 三人，他们都是某大学艺术学院的教授，分别来自上海、重庆和北京。已知：C 的收入比来自北京的教授高；A 的收入和来自重庆的教授不同；来自重庆的教授收入比 B 少。根据以上条件，下列对三人身份判断错误的有（ ）。

- A、A 来自上海，B 来自北京，C 来自重庆
- B、A 来自北京，B 来自重庆，C 来自上海
- C、A 来自北京，B 来自上海，C 来自重庆
- D、A 来自上海，B 来自重庆，C 来自北京

43、英国兰开斯特大学和谢菲尔德大学研究发现，每天拍张照片不仅有益健康，还有助于规避抑郁。这两所大学的研究团队对英国某大型社交网站上的海量照片、图说以及网友互动情况展开了两个月的跟踪调查。结果显示，每天拍一张照片能显著提升人们的幸福感。下列选项如果为真，支持上述结论的有（ ）。

- A、拍照使人注意到生活中的美好事物
- B、回顾照片时，会因美好的回忆而满足
- C、拍照有时需要出门，既增加运动量，也有助于消除孤独
- D、每天拍照发社交平台容易使人过度沉迷社交网络

四、资料分析。所给出的图、表、文字或综合性资料均有若干个问题要你回答。你应根据资料提供的信息进行分析、比较、计算和判断处理。

(一)

根据以下材料，回答问题。

2019 年 1-8 月甲省经济运行情况如下：

一、工业生产平稳增长，企业利润继续下降

1-8 月，全省规模以上工业增加值同比增长 2.7%。占全省规模以上工业增加值 55.9%的中央企业同比增长

1.0%，占比 18.6%的省属企业增长 2.3%，占比 25.5%的地方企业增长 6.8%。8 月份，全省规模以上工业增加值同比下降 1.8%。

1-8 月，全省工业用电量 619.5 亿千瓦时，同比下降 3.2%。8 月份，工业用电量同比下降 4.8%。1-7 月，全省规模以上工业企业利润总额 136.5 亿元，同比下降 32.1%。每百元营业收入中的成本 86.69 元。

二、固定资产投资增速加快，工业投资快速增长

1-8 月，全省固定资产投资同比增长 3.6%，增速比 1-7 月提高 0.9 个百分点。其中，项目投资增长 2.7%，房地产开发投资增长 6.2%。

从三次产业看，1-8 月，全省第一产业投资同比下降 23.4%；第二产业投资增长 20.9%，其中工业投资增长 24.5%；第三产业投资增长 2.1%，其中基础设施投资增长 6.1%。

1-8 月，全省民间投资下降 4.7%，降幅比 1-7 月收窄 1.9 个百分点。

三、消费品市场运行平稳，进出口总值同比下降

1-8 月，全省社会消费品零售总额同比增长 7.1%，增速与 1-7 月持平。

1-8 月，全省限额以上批发业销售额同比增长 9.2%，限额以上零售业销售额下降 1.4%，限额以上住宿业营业额增长 1.6%，限额以上餐饮业营业额增长 6.4%。

1-8 月，全省进出口总值 246.4 亿元，同比下降 8.0%。其中，出口总值 86.9 亿元，下降 7.1%；进口总值 159.5 亿元，下降 8.4%。

四、财政收支稳中趋缓，金融存贷稳定增长

1-8 月，全省一般公共预算收入 563.1 亿元，同比下降 3.4%，降幅与 1-7 月持平，考虑减税降费政策影响及去年一次性非税收入等因素，同口径增长 2.4%。其中，税收收入下降 6.8%，非税收入增长 5.3%。全省一般公共预算支出 2579.7 亿元，增长 9.7%。11 类民生支出同比增长 10.4%，扶贫支出增长 9.3%。

8 月末，全省金融机构本外币各项存款余额 19894.8 亿元，同比增长 7.1%；各项贷款余额 20330.9 亿元，增长 7.3%。

五、_____

1-8 月，全省居民消费价格同比上涨 2.1%，涨幅与 1-7 月持平。其中，食品烟酒类上涨 4.4%，医疗保健类上涨 2.5%，其他用品和服务类上涨 2.0%，居住类上涨 1.8%，衣着类上涨 1.1%，生活用品及服务类上涨 0.9%，教育文化和娱乐类上涨 0.5%；交通和通信类下降 0.7%。8 月份，全省居民消费价格同比上涨 2.0%，涨幅比 7 月份收窄 0.4 个百分点；环比持平。

1-8 月，全省工业生产者出厂价格同比下降 1.3%，降幅比 1-7 月扩大 0.3 个百分点；工业生产者购进价格上涨 0.4%，涨幅回落 0.4 个百分点。8 月份，工业生产者出厂价格同比下降 3.4%，环比上涨 1.3%；工业生产者购进价格同比下降 2.2%，环比下降 0.4%。

44、2018 年 1-8 月，甲省中央企业、省属企业、地方企业规模以上工业增加值的大小排序正确的是()。

- A、中央企业>省属企业>地方企业
- B、中央企业>地方企业>省属企业
- C、省属企业>中央企业>地方企业
- D、地方企业>中央企业>省属企业

45、截至 2019 年 8 月末，甲省金融机构本外币各项存款余额比各项贷款余额（ ）亿元。

- A、多 546.1
- B、多 436.1
- C、少 546.1
- D、少 436.1

46、2019 年 1—8 月，下列领域的居民消费价格占全省居民消费价格的比重较上年相比有所上升的是（ ）。

- A、衣着类
- B、居住类
- C、食品烟酒类
- D、生活用品及服务类

47、填入画横线部分最适合的标题是（ ）。

- A、居民消费价格涨势喜人，工业生产者出厂价格继续走低
- B、居民消费价格涨势喜人，工业生产者出厂价格一路走高
- C、居民消费价格涨势温和，工业生产者出厂价格继续走低
- D、居民消费价格涨势温和，工业生产者出厂价格一路走高

48、根据上述资料，下列说法正确的是（ ）。

- A、2019 年 7 月，甲省工业用电量较上年同期有所下降
- B、2019 年 7 月，甲省民间投资较上年同期有所上升
- C、2019 年 1-7 月，甲省一般公共预算收入较上年同期有所上升
- D、2019 年 1-8 月，甲省固定资产投资中第二产业投资同比增速高于第三产业

参考答案

1、从第二空入手，根据“、”可知前后构成并列，横线处所填词语与“老化”构成并列关系，语义相近，表示陈旧过时的含义，且要搭配“行为方式”和“运动项目”，B项“僵化”指变僵硬、停止发展，D项“死板”泛指做事不灵活、较真、认死理，均符合语义，保留；A项“固执”指顽固坚持，多与人搭配，不能用来形容“运动项目”和“行为方式”，排除；C项“奇怪”与“老化”不构成并列关系，排除。

第一空，横线处的词语要形容“破与立”以及“守正与创新”的关系，很明显二者是一种对立统一的关系，文段强调要对阻碍体育事业可持续发展的机制体制、运动项目、理念，坚持全面看待、破立结合，B项“辩证”形容看问题的眼光全面，符合文意，当选；D项“逻辑”指客观的规律性或思维的规律，不符合文意，排除。

故正确答案为B。

【文段出处】《守正创新办体育——以新理念引领体育强国建设的思考之一》

2、第一空，横线处所填词语与“梦想”构成并列关系，词义和“梦想”相近，而且要和“承载”搭配得当。A项“希冀”指希望、期望，与文意相符，保留；B项“企图”指图谋、打算、意图，不符合文意，且感情色彩消极，排除；C项“指望”指一心期待、盼头，D项“盼望”指殷切地期望、想念，一般作动词，均与“承载”搭配不当，排除。

第二空代入验证，根据“见惯了繁华与喧闹”和“绿色，正在城市中不断铺展开来”可知，生活在城市中的人们希望亲近“自然”，让“自然”回到“城市”生活中来，A项“回归”指回到、返回，与文意相符，当选。

故正确答案为A。

【文段出处】《在现代城市中诗意栖居》

3、第一空，根据横线前的“、”可知，横线处所填成语和“有模有样”构成并列关系，并且根据后文的“轻松骗过不少人”可知，文段强调媒体将本没有发生的事情“塑造”成好像真的发生过一样，含有贬义，B项“煞有其事”指好像真有那么回事似的，含贬义，符合文意，保留；A项“惟妙惟肖”形容描写或模仿得非常好、非常逼真，是褒义词，与文意不符，排除；C项“笔大如椽”形容著名的文章，也指有名的作家，D项“不蔓不枝”多用来称赞文章简洁，不拖泥带水，均不符合文意，排除。

第二空代入验证，B项“迷惑”表示辨不清是非，摸不着头脑，在这里用来形容人们被编造出来的新闻所欺骗，符合文意，当选。

故正确答案为B。

【文段出处】《六个小诀窍，让你不再轻信假新闻》

4、第一空，根据“花花绿绿的图书消失”以及“它们在书店门口堆积如山”可知，“各类教科书与教辅书”取代了原来的各类“图书”，B项“取而代之”泛指某一事物代替另一事物，符合文意，保留；A项“偷梁换柱”比喻暗中玩弄手法，以假代真，以劣代优，文段中的“教辅书”和其它“图书”并无优劣之分、真假之别，不

符合文意，排除；C项“无可替代”指没有什么能够代替，文段并非强调“教辅书”的不可替代，而是“教辅书”取代了其他图书，导致书店“变了样”，不符合文意，排除；D项“越俎代庖”比喻越权办事或包办代替，不符合文意，排除。

第二空、第三空代入验证，B项“矗立”和“堆积如山”对应，形象地体现了“教辅书”的“气势逼人”，符合语境，且根据“而我能做的，就是乖乖地交钱”和“逛书店的乐趣已经消失得无影无踪”可知，横线处要表达去书店购买“教辅书”的被动和无奈，“反正”表示情况不同而结果并无区别，符合文意，当选。

故正确答案为B。

【文段出处】《实体书店让城市可阅读，更可漫步、休憩》

5、第一空，搭配“人类命运共同体”这一抽象事物，A项“构建”指建立（一般用于抽象事物），符合文意，且“构建人类命运共同体”是固定搭配，保留；B、C两项“建设”指建立、设置，常搭配具体的事物，比如：家园、现代化强国，排除；D项“构造”一般指各个组成部分的安排、组织和相互关系，如：人体构造、地质构造，也指建造，一般不与抽象事物搭配，排除。

第二空、第三空代入验证，横线处所填词语由并列连词“和”连接，构成并列关系，A项“传承”和“弘扬”准确地体现了面对“中华优秀传统文化精髓”所应有的态度和做法，我们应该在“传承”的基础上将“传统文化”发扬光大，与文意相符，当选。

故正确答案为A。

【文段出处】《新知新觉：人类命运共同体理念的文化品格》

6、第一空、第二空为虚词填空，构成关联词，需要判断“是来享受好山好水的”和“也把好的举止与修养奉献于此”的逻辑关系。根据“享受”和“奉献”可知，两个词构成反义词，且根据前文“做一个配得上好山好水的好人”可知，文段更强调“好人”要为“好山好水”的好地方“奉献”自己，即“奉献”是重点，A项“虽然……但……”是转折关系关联词，转折前后语义相反，转折之后是重点，符合文意，保留；B项“与其……不如……”是选择关系关联词，“是来享受好山好水的”和“也把好的举止与修养奉献于此”不是非此即彼的选择关系，二者是共同存在的，排除；C项“只有……才……”是条件关系关联词，表示条件唯一，强调“享受好山好水”，与文意不符，且关联词“才”与“也”衔接不当，排除；D项“首先……然后……”是承接关系关联词，表示先“享受好山好水”，然后再“奉献”，与文意不符，排除。

第三空，代入验证，前文提到“好山好水”可以给人带来美的“享受”，人也要为“好山好水”奉献自己，因此“好人”与“好山好水”二者相互促进，相互增益，A项“相得益彰”表示两者互相配合或映衬，双方的长处和作用更能显示出来，与文意相符，当选。

故正确答案为A。

【文段出处】《面对“第二故乡”做配得上好山好水的好人》

7、横线在文段中间，起承上启下的作用，需结合前后文进行分析。文段首句中的“三人成虎”是指说的人多了，就能使人们把谣言当作事实，借此引出文段的主题“谣言”。“尤其”表示递进，故横线处所表达意思应该和横线后内容相近。后文进一步说明在紧急、重大关头，网络谣言仍在传播，根据“破坏力”“添乱”可知，横线后主要强调网络谣言危害巨大，对应B项。

A项，文段中并未提及治理网络谣言，强调的是网络谣言的危害，无中生有，排除；

C项，“网络谣言不会不攻自破”表示网络谣言需要攻破，而横线后强调谣言的危害性大，与后文无法衔接，排除；

D项，“谣言的推手”文段未提及，无中生有，排除。

故正确答案为B。

【文段出处】《对付网络谣言要下重拳》

8、横线在文段结尾，需要对文段进行总结。文段开篇通过两个事例：制定好计划但不到最后一刻不复习、布置了作业不到截止日期不上交，引出了当前存在的行动拖延的现象，接着通过“估计不少人会对这种描述很熟悉”进行概括，即很多人都有拖延习惯，行动不积极，接下来通过列数据的方式论证观点，强调“口头积极者”多，因此，“口头积极者”的言外之意为口头上很积极，但行动上不积极的人，对应D项。

A项，文段中并未体现“行动受限”，无中生有，排除；

B项，未体现出行动上积极的意思，文段强调的是“口头上积极”而“行动上不积极”，与文意不符，排除；

C项，与“口头积极者”的意思相反，与文意不符，排除。

故正确答案为D。

【文段出处】《拖延就是一场和自己的战争》

9、对比选项确定首句，选项中①句、③句、⑤句充当首句，①句中“这里”为指代词，①句非首句，排除A项。③句“其”为指代词，③句非首句，排除B项。对比C、D两项，⑤句作为首句，其后接②①，或①②，⑤句指出上海市区老场坊由屠宰场改成了咖啡厅等集合地，成为艺术区，②句提到沿着曾经屠宰车间的低矮步道，看到许多年轻人，①句出现了“咖啡店”，与⑤句中的“咖啡厅”对应，故⑤①捆绑，且转了转之后引发了所见所感，①句后接②句，对应D项。

故正确答案为D。

【文段出处】《身为村上春树》

10、对比选项确定首句，选项中①、⑤充当首句，①论述活性炭种类繁多，⑤引入活性炭这一事物，按照逻辑顺序，应先引出话题，再对其进行分类，故⑤更适合做首句，排除A、B两项。对比C、D两项，判断是①②⑥还是①⑥②，①论述活性炭按生产原料分有哪些，②进行举例“活性炭纤维、活性炭布、蜂窝状活性炭”，⑥论述按外观形状分有哪些活性炭，其中②中的“蜂窝状”为形状表述，对应⑥“按外观形状分类”，为“其

他形状活性炭”的具体举例，故⑥在②前，⑥②捆绑且在①后，与①构成并列句，对应D项。

故正确答案为D。

【文段出处】《吸附工具：空气净化活性炭》

11、文段开头论述各色漫画平台不断崛起，国漫与各行业联合，蓬勃发展。重点关注尾句，通过转折重点强调国漫IP产业化发展道路有瓶颈，因此接下来应对遇到的瓶颈进行分析，即国漫IP产业化遇到的问题，对应C项。

A项，“创新国漫IP产业形式”对应前文“国漫IP不断与多种业态结合，催生出……多种商业模式”，为前文论述过的内容，排除；

B项，“必然趋势”，是对未来的前景概括，非尾句强调内容，和尾句核心话题不一致，排除；

D项，“推动国漫IP产业化进程”为对策表述，直接接在尾句之后过于突兀，应先对问题进行分析，再论述具体对策，排除。

故正确答案为C。

【文段出处】《IP时代，小动漫如何做成大产业？》

12、首先，文段论述的背景是预约挂号通过第三方平台，接着运用假设的方式论述了平台不加强管理的危害，为文段的重点，告诉我们平台应加强管理，对应D项“打击网络黄牛，平台不能做‘甩手掌柜’”。

A项，文中没说第三方平台是“唯一手段”，排除；

B、C项，缺乏主题词“平台”，排除。

故正确答案为D。

【文段出处】《打击网络黄牛，平台不能做甩手掌柜》

13、A项，文中没有提及“如今的文艺创作不再存在抄袭模仿、千篇一律等现象”，无中生有，排除。

B项，对应文中“但媒介形态和媒介产品数量日益庞大、无处不在，文艺作品形态和数量已经前所未有地丰富”，符合文意，当选；

C项，对应文中“要在海量信息中实现一部作品的广泛覆盖乃至文化引领，难度前所未有”，符合文意，当选；

D项，对应文中“新创作品都已经丰富到难以选择的程度”，符合文意，当选。

故正确答案为BCD。

【文段出处】《有效提升文艺引领能力（高峰之路）》

14、从文段最后一句专家表示运动是“双刃剑”表明下文应该从正反两个方面论述正确走路和过度走路会伤身。

A项，“健步走”一词在文段中并未提及，排除；

B项，文中最后提及运动既可健身也可伤身，“应该如何正确地走路”是具体做法，当选；

C项，文中最后提及运动是“双刃剑”，既可健身也可伤身，“过度走路可能存在的风险”是危害，当选；
D项，“走路为什么被认为是‘最好的运动’”，文段前面已经论述过，重复，排除。

故正确答案为BC。

【文段出处】《朋友圈晒步数不是目的 科学走路才能强身健体》

15、工程队每人的工作效率 $= \frac{\text{工作总量}}{\text{时间} \times \text{人数}} = \frac{1000}{10 \times 10} = 10$ 米/天，则再修建 2000 米需要的时间 $= \frac{\text{工作总量}}{\text{工作效率} \times \text{人数}} = \frac{2000}{10 \times 8} = 25$ 天。

故正确答案为B。

16、因家庭成员内部排序无要求，则把一个家庭看做一个整体。四个整体都需要排队，共有 $A_4^4 = 4 \times 3 \times 2 \times 1 = 24$ 种可能。

故正确答案为A。

17、设需要大客车 X 辆，小客车 Y 辆。根据题意有， $37X + 20Y = 271$ 。

方法一：根据奇偶特性“奇数 + 偶数 = 奇数”，271 为奇数， $20Y$ 为偶数，则 $37X$ 为奇数，即 X 为奇数，排除 A、C 项。又根据倍数特性， $20Y$ 为 5 的倍数，而 271 不是 5 的倍数，则 $37X$ 不是 5 的倍数，即 X 不是 5 的倍数，排除 D 项。

方法二： $20Y$ 的尾数是 0，271 的尾数是 1，可知， $37X$ 的尾数是 1。结合选项可知，只有 $X = 3$ 符合要求。

故正确答案为B。

18、根据题意，长、宽、高是三个连续的偶数，且高是最小的，运用代入排除法。观察选项，带入 A 项，即高为 10 厘米，长、宽为 12 厘米、14 厘米，则体积 $= 10 \times 12 \times 14 = 1680$ 立方厘米，符合题意。

故正确答案为A。

19、方法一：设 AB 两地距离为 X 千米。根据题意可知，空车时速度为 $60 \times 1.5 = 90$ 。已知来回用时 3 个小时，可列方程： $\frac{X}{60} + \frac{X}{90} = 3$ ，解得 $X = 108$ 千米。

方法二：由题意可知，货车从 A 出发到 B 时间 (T_1) + 从 B 返回 A 时间 (T_2) = 3 小时，且返回速度 (V_2) 是去时速度 (V_1) 的 1.5 倍。往返路程相同，则所用时间与速度成反比，即： $\frac{T_1}{T_2} = \frac{V_2}{V_1} = 1.5$ ，可得， $T_1 = 1.8$ 小时， $T_2 = 1.2$ 小时。则 AB 两地距离 $= 1.8 \times 60 = 108$ 千米。

故正确答案为A。

20、设原价为 1，原销量为 1，则促销价 $= 1 \times 0.8 = 0.8$ ，促销量 $= 1 \times 2 = 2$ 。收入的增长率

$$= \frac{\text{促销收入} - \text{原收入}}{\text{原收入}} = \frac{0.8 \times 2 - 1 \times 1}{1 \times 1} = 0.6, \text{ 即 } 60\%。$$

故正确答案为 C。

21、锯木板问题最好用的方法是数切口，把一个木料锯成 2 段有一个切口，锯成 3 段则有 2 个切口。根据题意每根一个切口需要 5 分钟，则一根木料锯成 3 段需要的时间 = $2 \times 5 = 10$ 分钟，有三根木料，则需要的时间 = $10 \times 3 = 30$ 分钟。

故正确答案为 B。

22、方法一：该数能被 3 和 5 同时整除，3 和 5 的最小公倍数为 15，该数必然是 15 的倍数。135 是 15 的 9 倍，315 是 15 的 21 倍，均能同时被 3 和 5 整除，A、C 项正确；115、215 不是 15 的倍数，不能同时被 3 和 5 整除，B、D 项错误。

方法二：能被 3 整除的数，其所有位数上的数字之和是 3 的倍数；能被 5 整除的数，其个位是 0 或者 5。四项个位数均是“5”，均能被 5 整除。

A 项， $1 + 3 + 5 = 9$ ，能被 3 整除，正确；

B 项， $1 + 1 + 5 = 7$ ，不能被 3 整除，错误；

C 项， $3 + 1 + 5 = 9$ ，能被 3 整除，正确；

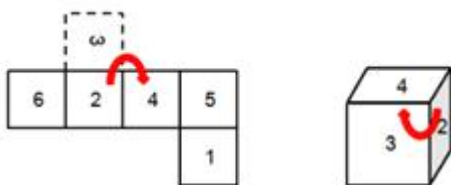
D 项， $2 + 1 + 5 = 8$ ，不能被 3 整除，错误。

故正确答案为 AC。

23、本题考查空间重构，逐一进行分析。

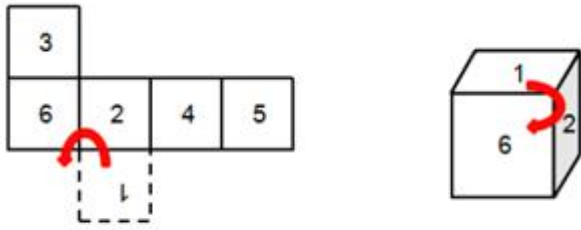
A 项：选项出现了面 1、面 3、面 6，而题干中面 1、面 3 位于 Z 字形两端，是相对面，不能同时出现，选项与题干不一致，排除；

B 项：展开图与立体图分别用时针法依次标注面 2、面 3、面 4，如图一所示，展开图为顺时针，立体图同为顺时针，选项与题干一致，当选；



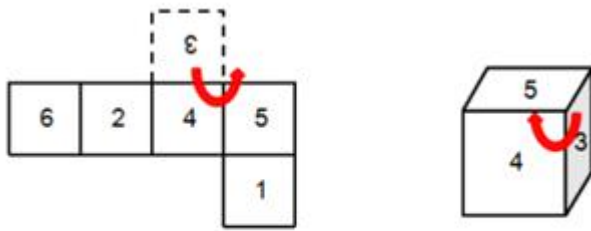
图一

C 项：展开图与立体图分别用时针法依次标注面 1、面 2、面 6，如图二所示，展开图为逆时针，立体图为顺时针，选项与题干不一致，排除；



图二

D项：展开图与立体图分别用时针法依次标注面3、面4、面5，如图三所示，展开图为逆时针，立体图为顺时针，选项与题干不一致，排除。



图三

故正确答案为B。

24、元素组成不同，优先考虑属性规律。题干图形均为轴对称图形，且都仅有1条对称轴，故“？”处图形也应只有1条对称轴，只有A项符合。

故正确答案为A。

25、元素组成不同，且无明显属性规律，优先考虑数量规律。题干图形均为汉字，考虑数汉字笔画数。题干4个字笔画数分别为9、11、13、15，呈等差数列，则“？”处汉字笔画数应为17。四个选项笔画数分别为17、14、15、19，只有A项符合。

故正确答案为A。

26、第一步：找出定义关键词。

“微生物病原体或者包含微生物病原体的材料以及被其感染的个体”、“处理时对工作人员的危害或者伤害”。

第二步：逐一分析选项。

A项：细菌属于“微生物病原体”，医生在救治“被其感染的个体时”被击倒符合“处理时对工作人员的危害或者伤害”，符合定义，当选；

B项：老鼠泛滥导致鼠疫严重，未体现“对工作人员的危害或者伤害”，不符合定义，排除；

C项：石油泄漏造成附近一带水生物死亡不符合“对工作人员的危害或者伤害”，不符合定义，排除；

D项：蝗虫不是“微生物病原体”，农作物遭到严重破坏也不符合“对工作人员的危害或者伤害”，不符合定义，排除。

故正确答案为 A。

27、第一步：找出定义关键词。

“遗传物质所决定”、“不需要后天学习，生来就有的一种行为能力”。

第二步：逐一分析选项。

A 项：鸟类的迁徙是鸟的一种本能，是“遗传物质所决定”、“不需要后天学习，生来就有的一种行为能力”，符合定义，排除；

B 项：大猩猩用树枝作为工具捕食蚂蚁，是在成长过程中模仿成年大猩猩习得，不符合“不需要后天学习，生来就有的一种行为能力”，不符合定义，当选；

C 项：小袋鼠爬到母袋鼠腹部的育儿袋中吃奶，是“遗传物质所决定”、“不需要后天学习，生来就有的一种行为能力”，符合定义，排除；

D 项：体色随环境改变是变色龙特有的本能，由变色龙的“遗传物质所决定”、“不需要后天学习，生来就有的一种行为能力”，符合定义，排除。

本题为选非题，故正确答案为 B。

28、第一步：找出定义关键词。

“食品支出总额占个人消费支出总额的比重”、“随居民家庭收入和生活水平的提高而下降”。

第二步：逐一分析选项。

A 项：小明家这个月和上个月的“食品支出总额占个人消费支出总额的比重”都是 50%，因此其生活水平并未提高，选项说法不符合定义，排除；

B 项：小华“食品支出总额占个人消费支出总额的比重”为 $\frac{420}{1000}$ ，即恩格尔系数为 42%，选项说法符合定义，当选；

C 项：恩格尔系数“随居民家庭收入和生活水平的提高而下降”，丙地区恩格尔系数高于丁地区，故丙地区的人生活质量低于丁地区的人，选项说法不符合定义，排除；

D 项：恩格尔系数“随居民家庭收入和生活水平的提高而下降”，故全部开支都用于购买食物的人恩格尔系数为 100%，其生活水平特别差，选项说法不符合定义，排除。

故正确答案为 B。

29、第一步：判断题干词语间逻辑关系。

图一、图二分别为葡萄和菠萝，二者均为水果，二者为并列关系。

第二步：判断选项词语间逻辑关系。

A 项：计算机和算盘都是计算工具，二者为并列关系，与题干逻辑关系一致，当选；

B 项：猴子是对猴科动物的统称，狒狒是对猴科-猕猴亚科-狒狒属动物的统称，狒狒是猴子的一种，二者

为种属关系，与题干逻辑关系不一致，排除；

C项：鼠标是电脑的输入设备，二者为对应关系，与题干逻辑关系不一致，排除；

D项：火热是火焰的属性，二者为对应关系，与题干逻辑关系不一致，排除。

故正确答案为A。

30、第一步：判断题干词语间逻辑关系。

压缩机是空调的组成部分，二者为包容关系。

第二步：判断选项词语间逻辑关系。

A项：奶油是制作蛋糕的原材料，二者为对应关系，与题干逻辑关系不一致，排除；

B项：汽油和柴油都是轻质石油产品，二者为并列关系，与题干逻辑关系不一致，排除；

C项：发动机是飞机的组成部分，二者为包容关系，与题干逻辑关系一致，当选；

D项：烤架可以用来烧烤，二者为对应关系，与题干逻辑关系不一致，排除。

故正确答案为C。

31、第一步：判断题干词语间逻辑关系。

眼睛、鼻子、嘴巴都属于五官，三者为并列关系。

第二步：判断选项词语间逻辑关系。

A项：铁路和公路都是基础交通设施，二者与交通都为对应关系，与题干逻辑关系不一致，排除；

B项：茄子和土豆都是蔬菜，二者与蔬菜为种属关系，与题干逻辑关系不一致，排除；

C项：裤子、上衣、裙子都是衣服，三者为并列关系，与题干逻辑关系一致，当选；

D项：高铁和飞机是交通工具，为并列关系，飞机与轨道无明显逻辑关系；轨道是高铁的组成部分，二者为包容关系。与题干逻辑关系不一致，排除。

故正确答案为C。

32、第一步：判断题干词语间逻辑关系。

“寻寻觅觅，冷冷清清，凄凄惨惨戚戚”出自李清照的《声声慢·寻寻觅觅》，李清照是宋代人，三者为名句、作者、朝代的对应关系。

第二步：判断选项词语间逻辑关系。

A项：“众里寻他千百度，蓦然回首，那人却在灯火阑珊处”出自辛弃疾的《青玉案·元夕》，辛弃疾是豪放派词人，三者为名句、作者、流派的对应关系，与题干逻辑关系不一致，排除；

B项：“在天愿作比翼鸟，在地愿为连理枝”出自白居易的《长恨歌》，白居易是唐代人，三者为名句、作者、朝代的对应关系，与题干逻辑关系一致，当选；

C项：“床前明月光，疑是地上霜”出自李白的《静夜思》，作者对应错误，与题干逻辑关系不一致，排除；

D项：“辛苦最怜天上月，一昔如环，昔昔都成玦”出自纳兰性德的《蝶恋花·辛苦最怜天上月》，但纳兰性德是清代人，并非明代，朝代对应错误，与题干逻辑关系不一致，排除。

故正确答案为B。

33、逐一代入选项。

A项：机器运转，属于主谓关系；小鸟飞翔，属于主谓关系，但前后词语顺序不一致，前后逻辑关系不一致，排除；

B项：飞机是一种机器，二者为包容关系；小鸟是一种动物，二者为包容关系，前后逻辑关系一致，当选；

C项：柜子与机器无明显逻辑关系；小鸟与大象都属于动物，二者为并列关系。前后逻辑关系不一致，排除；

D项：机器的原材料可能为钢铁，二者为对应关系；羽毛是小鸟的组成部分，二者为包容关系。前后逻辑关系不一致，排除。

故正确答案为B。

34、第一步：翻译题干。

小王：健身或游泳。

第二步：分析题干。

由题干可知小王说的不是事实，即¬（健身或游泳），根据摩根定律可知，小王¬健身且¬游泳。所以，小王健身、游泳都没去，A项符合。

故正确答案为A。

35、第一步：分析题干。

①江西的人员身高最高

②甲的身高排第二

③湖北的人员的身高比甲低

第二步：根据题干信息分析选项。

本题突破口是信息量最大对象，即甲。由①②③可知，身高：江西>甲>湖北。因此，甲既不是江西人，也不是湖北人。所以甲只能来自湖南，而其他无法得知。D项符合题意。

故正确答案为D。

36、第一步：找出论点和论据。

论点：人们要尽量拉开窗帘让阳光照进房间。

论据：黑暗的房间中平均有22%的细菌存活且能够繁殖。而有阳光照射的房间只有3.8%的细菌存活。

第二步：逐一分析选项。

A项：指出阳光中的紫外线具有杀菌功能，是对让阳光照进房间的解释，补充了论据，加强了题干观点，排除；

B项：指出阳光杀死的大部分细菌都有益于人体健康，说明让阳光照进房间对人体并无益处，人们不应该过多拉开窗帘，可以削弱论点，当选；

C项：该项讲述的是有少部分人会对阳光产生过敏反应，但题干讲述的并不是人而是房间，话题不一致，无法削弱，排除；

D项：该项讨论的是房间潮湿与存活率的问题，而题干讨论的是阳光杀菌的问题，话题不一致，无法削弱，排除。

故正确答案为B。

37、第一步：找出定义关键词。

“员工在工作情境中”、“为完成工作所具备并体现出来的知识、技能、能力、态度、动机等关键特征”。

第二步：逐一分析选项。

A项：小王能在短时间内烹饪出各具特色的粤菜和川菜，属于小王在工作情境中表现出的技能，符合“员工在工作情境中”、“为完成工作所具备并体现出来的知识、技能、能力、态度、动机等关键特征”，符合定义，当选；

B项：由于同事的失误导致需要重新调研，并没有体现出小李是否具备某些工作知识、技能、能力、态度、动机等关键特征，不符合“为完成工作所具备并体现出来的知识、技能、能力、态度、动机等关键特征”，不符合定义，排除；

C项：小张能整理出合格供应商的名单和真实报价，属于小张在工作情境中表现出的能力，符合“员工在工作情境中”、“为完成工作所具备并体现出来的知识、技能、能力、态度、动机等关键特征”，符合定义，当选；

D项：小周受到了领导的质疑与反驳，并没有体现出小周是否具备某些工作知识、技能、能力、态度、动机等关键特征，不符合“为完成工作所具备并体现出来的知识、技能、能力、态度、动机等关键特征”，不符合定义，排除。

故正确答案为AC。

38、第一步：判断①与②之间逻辑关系。

②包含①，二者为包容关系。

第二步：判断选项词语间逻辑关系。

A项：牡丹和百合是两种不同的花卉，二者为并列关系，与题干逻辑关系不一致，排除；

B项：海豚属于哺乳动物的一种，二者为包容关系，与题干逻辑关系一致，当选；

C项：①②都是同一种植物种子，二者为全同关系，与题干逻辑关系不一致，排除；

D项：宋体是字体的一种，二者为包容关系，与题干逻辑关系一致，当选。

故正确答案为BD。

39、第一步：判断题干词语间逻辑关系。

湖北省简称鄂，二者为全同关系，湖北的省会是武汉，二者为对应关系。

第二步：判断选项词语间逻辑关系。

A项：山东省简称鲁，省会是济南，而非青岛，与题干逻辑关系不一致，排除；

B项：安徽省简称皖，省会是合肥，与题干逻辑关系一致，当选；

C项：吉林省简称吉，省会是长春，与题干逻辑关系一致，当选；

D项：山西省简称晋，而非冀，省会是太原，与题干逻辑关系不一致，排除。

故正确答案为BC。

40、第一步：翻译题干。

①晚上5小时 \rightarrow 大脑充分休息

②大脑充分休息 \rightarrow 身心疲惫

①和②的递推可得③：晚上5小时 \rightarrow 大脑充分休息 \rightarrow 身心疲惫

第二步：分析题干。

题干小明身心不疲惫，是对结论③后件的否定，否后推否前，可以推出结论：小明大脑得到充分休息，小明昨晚睡足5小时。对应选项BD。

故正确答案为BD。

41、第一步：分析题干逻辑错误。

题干翻译为：大象 \rightarrow 喝水，人 \rightarrow 喝水，所以人 \rightarrow 大象（ $a\rightarrow b, c\rightarrow b$ ，所以， $c\rightarrow a$ ），所犯逻辑错误为肯后推肯前。

第二步：逐一分析选项。

A项：翻译为空调 \rightarrow 制冷，冰箱 \rightarrow 制冷，所以冰箱 \rightarrow 空调（ $a\rightarrow b, c\rightarrow b$ ，所以， $c\rightarrow a$ ），所犯逻辑错误为肯后推肯前，与题干所犯逻辑错误一致，当选；

B项：翻译为饮料 \rightarrow 有色素，紫菜 \rightarrow 有色素，所以紫菜 \rightarrow 饮料（ $a\rightarrow b, c\rightarrow b$ ，所以， $c\rightarrow a$ ），所犯逻辑错误为肯后推肯前，与题干所犯逻辑错误一致，当选；

C项：翻译为植物 \rightarrow 绿色，茄子 \rightarrow 绿色，所以茄子 \rightarrow 植物（ $a\rightarrow b, c\rightarrow \neg b$ ，所以， $c\rightarrow a$ ），属于否后推否前，与题干所犯逻辑错误不一致，排除；

D项：翻译为学生 \rightarrow 积极向上，赵平 \rightarrow 学生，所以赵平 \rightarrow 积极向上（ $a\rightarrow b, c\rightarrow a$ ，所以， $c\rightarrow b$ ），属于肯

前推肯后，与题干所犯逻辑错误不一致，排除。

故正确答案为 AB。

42、第一步：分析题干。

①C 的收入比北京教授高

②A 的收入和重庆教授不同

③重庆教授收入比 B 少

第二步：根据题干信息分析选项。

本题突破口是信息量最大对象，即重庆教授。由②③可知，A、B 均不是来自重庆，因此，推出结论④：C 来自重庆。由①③④可以推出，收入： $B > C$ （重庆） $>$ 北京，由此可以推出 A 来自北京，B 来自上海，选项中只有 C 项符合题意。

本题为选非题，故正确答案为 ABD。

43、第一步：找出论点和论据。

论点：每天拍张照片不仅有益健康，还有助于规避抑郁。

论据：对英国某大型社交网站上的海量照片、图说以及网友互动情况展开了两个月的跟踪调查。结果显示，每天拍一张照片能显著提升人们的幸福感。

题干论点、论据都在每天拍张照对人体有益，话题一致，优先考虑补充论据的加强方式。

第二步：逐一分析选项。

A 项：选项强调拍照使人能注意到美好事物，说明拍照对人体有益，是对题干论点的解释，补充了论据，可以加强题干结论，当选；

B 项：选项强调回顾照片会因美好的回忆而满足，说明拍照对人体有益，是对题干论点的解释，补充了论据，可以加强题干结论，当选；

C 项：选项强调拍照既增加运动量，也有助于消除孤独，说明拍照对人体有益，是对题干论点的解释，补充了论据，可以加强题干结论，当选；

D 项：选项强调拍照发社交平台容易使人过度沉迷社交网络，说明拍照不益于人体健康，削弱论点，排除。

故正确答案为 ABC。

44、根据题干“2018 年 1-8 月……大小排序正确的是”，结合材料时间为 2019 年 1-8 月，判定本题为基期比较问题。定位材料一第一段，已知各个企业占总体的比重和增长率，求基期量，公式：

基期 = $\frac{\text{现期}}{1 + \text{增长率}} = \frac{\text{总体} \times \text{占比}}{1 + \text{增长率}}$ 。中央企业： $\frac{55.9\% \times \text{全省}}{1 + 1.0\%} \approx 55\% \times \text{全省}$ ；省属企业： $\frac{18.6\% \times \text{全省}}{1 + 2.3\%} \approx 18\% \times \text{全省}$ ；

地方企业： $\frac{25.5\% \times \text{全省}}{1 + 6.8\%} \approx 23\% \times \text{全省}$ 。总体（全省）相同，直接比较百分数大小，即中央企业 $>$ 地方企业 $>$ 省属企业。

故正确答案为 B。

45、定位材料四第二段可得：2019 年 8 月末，金融机构本外币各项存款余额 19894.8 亿元，各项贷款余额 20330.9 亿元，存款余额 < 贷款余额，排除 A、B 项。 $20330.9 - 19894.8 = 436.1$ 亿元，对应 D 项。

故正确答案为 D。

46、根据题干“2019 年 1—8 月 的比重较上年相比有所上升的是”，判定本题为两期比重比较问题。问“上升”，要满足部分增长率 $a >$ 总体增长率 b 。定位材料五第一段，总体（全省）的增长率 $b = 2.1\%$ 。

A 项：衣着类增长率 = $1.1\% < b$ ，排除；

B 项：居住类增长率 = $1.8\% < b$ ，排除；

C 项：食品烟酒类增长率 = $4.4\% > b$ ，保留；

D 项：生活用品及服务类上涨 $0.9\% < b$ ，排除。

故正确答案为 C。

47、定位材料五，第一段讲的是消费价格情况，根据材料数据可以看出，居民消费价格同比增速都维持在百分之几的范围内，所以涨势不是特别明显，排除 A、B 项；第二段讲的是工业生产者出厂价格情况，根据材料所给数据，工业生产者出厂价格呈现同比下降趋势，对应排除 D 项。

故正确答案为 C

48、A 项：根据“工业用电量”定位材料一，材料给出的是 1-7 月、1-8 月和 8 月份的数据，无法推出 7 月的相关数据，排除；

B 项：根据“民间投资”定位材料二最后一段，材料给出的是 1-8 月和 1-7 月的相关数据，无法推出 7 月的相关数据，排除；

C 项：定位材料四：1-8 月，全省一般公共预算收入同比下降 3.4% ，降幅与 1-7 月持平。可知，1-7 月同比增速 = $-3.4\% < 0$ ，同比下降，排除；

D 项：定位材料二第二段：第二产业投资增长 20.9% ，第三产业投资增长 2.1% 。 $20.9\% > 2.1\%$ ，故第二产业投资同比增速高于第三产业表述正确。

故正确答案为 D。